

Spiega con parole tue il significato dei seguenti termini

Due punti per ogni risposta accettabile

Impero.....

Repubblica.....

Monarchia.....




Aristocrazia.....

Guerra civile.....

.../10

Trascrivi nei rettangolini giusti i numeri che contrassegnano le didascalie:

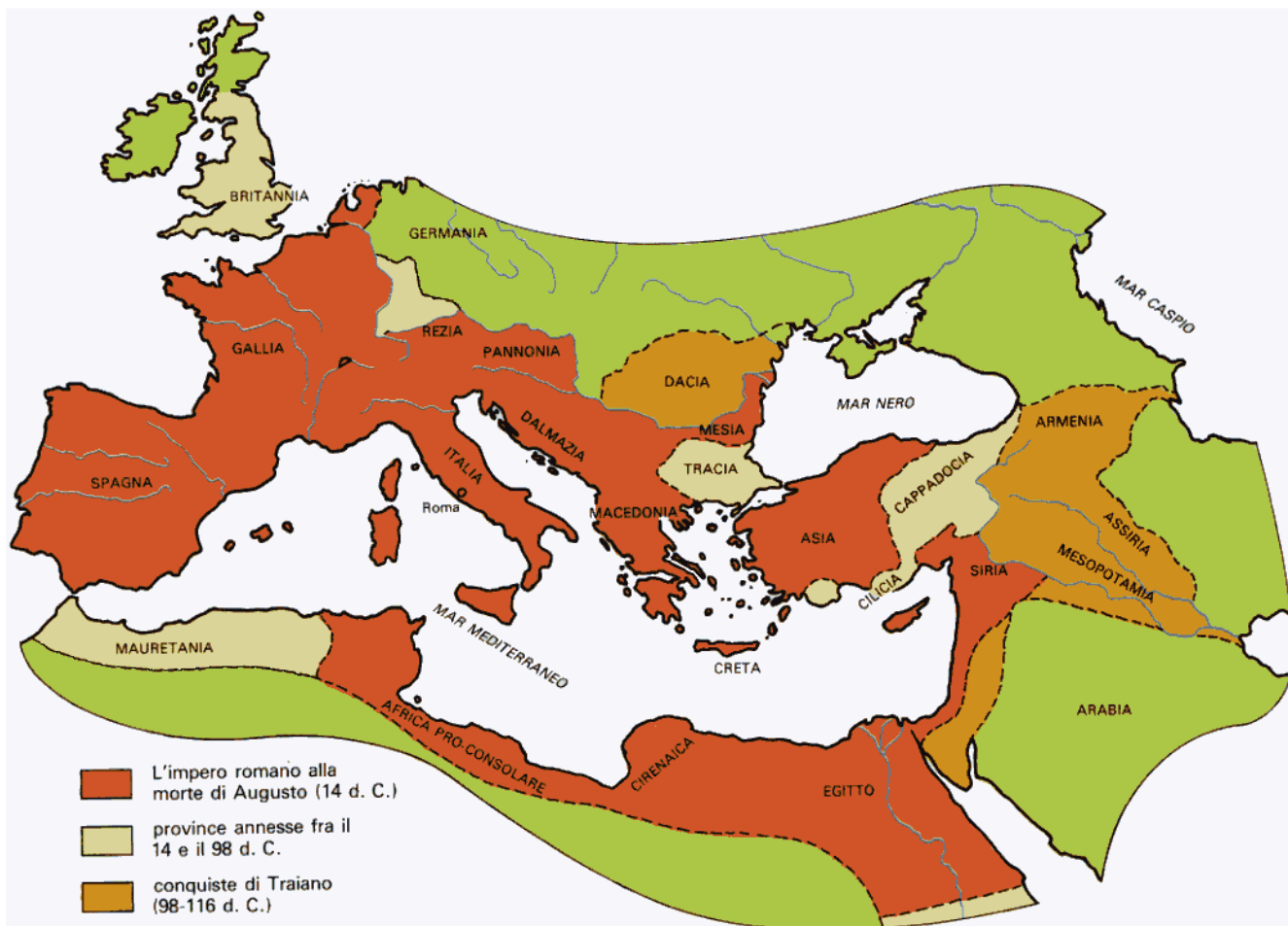
1. Pittura rupestre/ 2. uomo primitivo/ 3. soldato greco/ 4. soldato romano/ 5. cavaliere medievale/ 6. Re Luigi XIV.



.../6

Osserva la cartina e rispondi

(Se non è possibile effettuare la stampa a colori, è opportuno mostrare alla classe la cartina alla LIM)



Cosa raffigura la cartina? (sottolinea l'opzione corretta)

L'Unione Europea L'impero romano I domini dell'Italia Le province europee

L'impero romano e alcuni territori che non facevano parte dell'Impero

Quale imperatore conquistò la Dacia?.....Traiano.....

In che periodo fu annessa la Cappadocia?.....Tra il 14 e il 98 d.C.....

Al tempo dell'Imperatore Augusto, la Mauretania faceva già parte dell'Impero? Sì No

Nel 13 d. C. la Tracia faceva già parte dell'impero? Sì No

L'Assiria fu conquistata dopo il 14 d. C? Sì No

La Siria, l'Armenia e la Cappadocia furono annesse nello stesso periodo? Sì No

Elenca almeno quattro province annesse dopo la morte di Augusto:

Tracia, Cappadocia, Armenia, Dacia, Assiria, Mesopotamia, Mauretania, Cilicia

..../11

Trascrivi nei quadratini il numero dell'effetto corrispondente ad ogni causa

Cause	Effetti
Inondazioni e deposito di limo <input type="text" value="5"/>	1. Diminuzione della mortalità per malattia
Epidemia di peste <input type="text" value="6"/>	2. Edificazione di castelli e di mura di cinta
Sconfitta di Cartagine <input type="text" value="4"/>	3. Disboscamento
Necessità di aumentare la produzione agricola <input type="text" value="3"/>	4. Roma domina il Mediterraneo
Pericolo di invasione <input type="text" value="2"/>	5. Fertilità del suolo
Miglioramento delle condizioni igieniche <input type="text" value="1"/>	6. Diminuzione della popolazione

.../6

VALUTAZIONE DELLA PROVA

Punteggio totale/60

Voto

Osservazioni

.....
.....
.....
.....