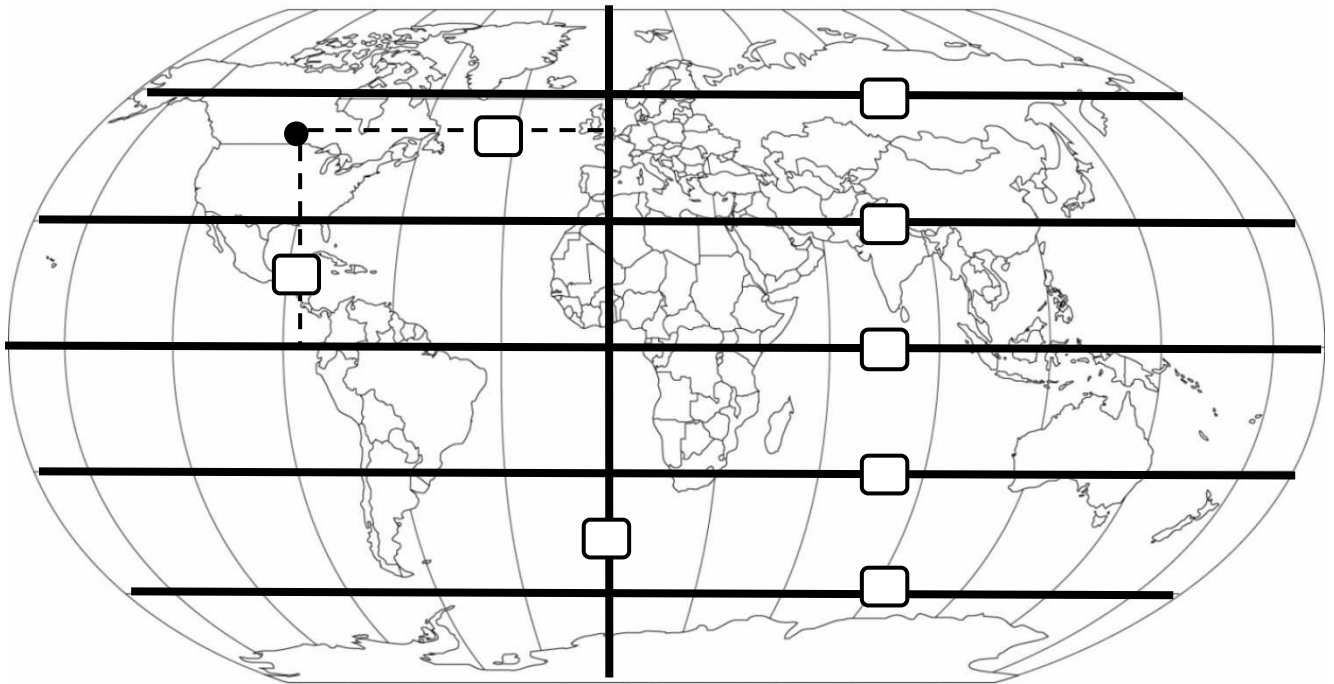


Nome..... Cognome..... Data.....

Inserisci nel quadratino giusto il numero che contrassegna le seguenti linee immaginarie

1) equatore, 2) meridiano di Greenwich, 3) tropico del cancro, 4) tropico del capricorno, 5) longitudine, 6) latitudine, 7) circolo polare antartico, 8) circolo polare artico.



...../8

Completa

➤ Si dice "boreale" la parte del globo terrestre a nord dell'; quella a sud si dice invece

...../2

Usando delicatamente i pastelli, sul precedente planisfero colora di rosso la zona torrida (tra i due tropici), di verde le due zone temperate, di blu le due zone polari.

Un punto per ogni zona individuata correttamente

...../5

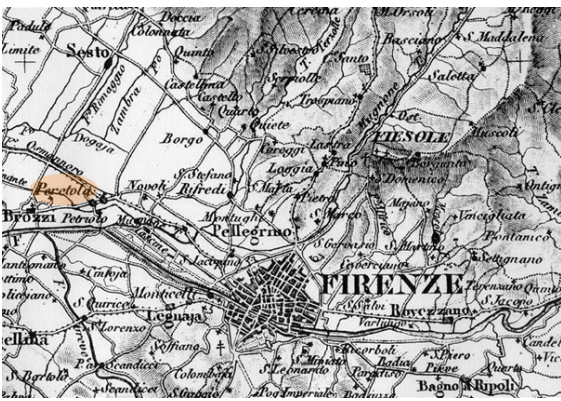
Osserva le cartine



1



2



3



4

Sottolinea l'opzione corretta

La carta n. 1 Si chiama geografica, topografica, corografica, piantina

La carta n. 2 si chiama geografica, topografica, corografica, piantina

La carta n. 3 si chiama geografica, topografica, corografica, piantina

La carta n. 4 si chiama geografica, topografica, corografica, piantina

Rispondi

Per rappresentare la rete stradale di una regione italiana ho bisogno preferibilmente di una

.....

Per rappresentare il percorso dalla mia scuola al museo in centro ho bisogno di una

.....

Per rappresentare l'Asia ho bisogno di una

.....

2 punti per ogni risposta esatta

...../14



Usando delicatamente i pastelli e inserendo le opportune didascalie, realizza una cartina fisica dell'Italia, indicando le catene montuose, le pianure, i fiumi, i laghi e i vulcani che ricordi. Indica anche i mari e i golfi.

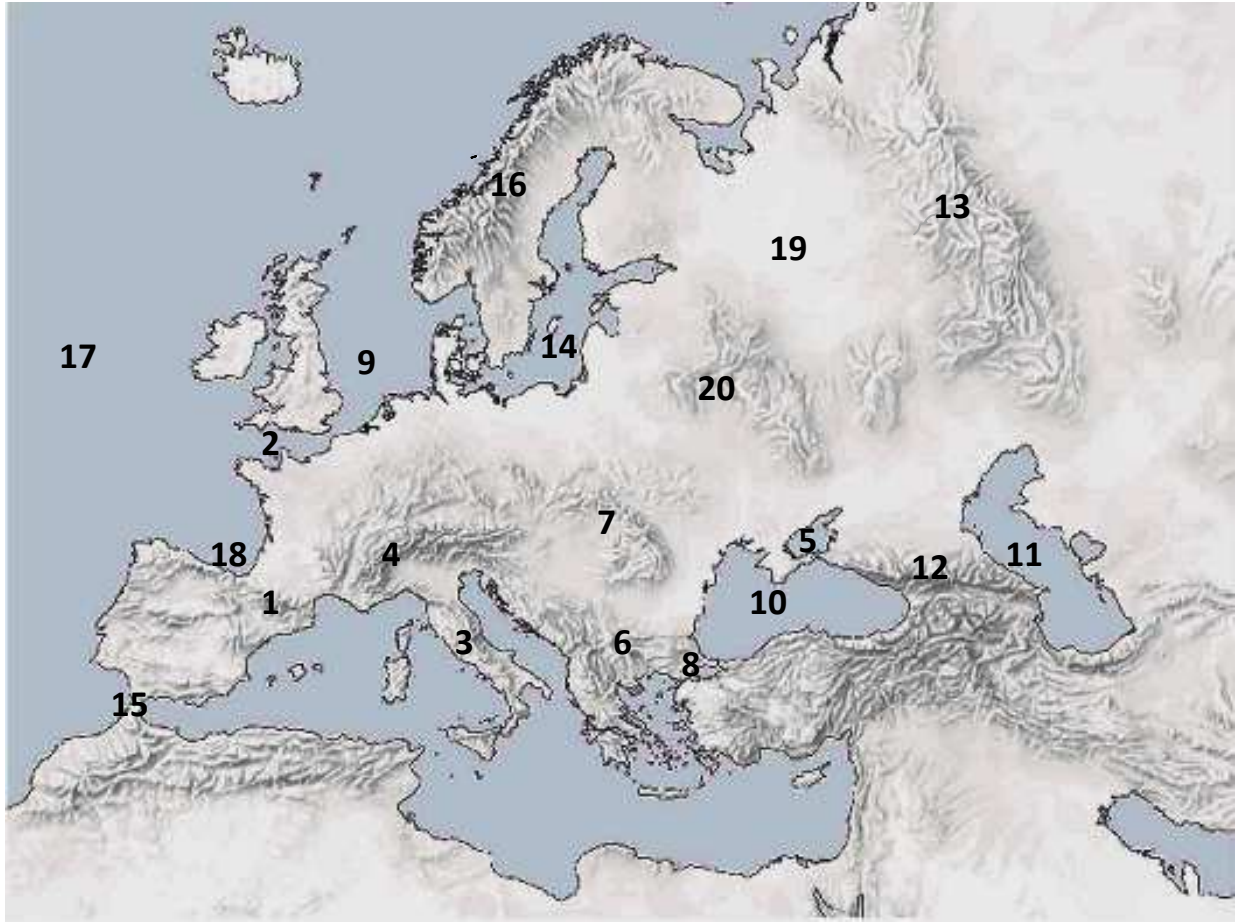
...../20

Vero o falso?

In Italia il territorio è prevalentemente pianeggiante	V	F
L'Italia si trova nell'emisfero boreale	V	F
L'Italia è attraversata dal meridiano di Greenwich	V	F
L'Italia si trova nella fascia torrida	V	F
Rispetto al meridiano di Greenwich l'Italia si trova a ovest	V	F
Le isole Eolie si trovano nel mar Adriatico	V	F

...../6

Inserisci le didascalie sui puntini, accanto al numero corrispondente.



Urali – Pirenei – Carpazi – Mare del Nord – Mar Nero – Mar Caspio – Mar Baltico – Golfo di Biscaglia
Appennini – Alpi – Bosforo – Stretto di Gibilterra – Canale della Manica – Oceano Atlantico – Balcani –
Monti Scandinavi – Mar d’ Azov – Caucaso – Bassopiano sarmatico – Rialto centrale russo

- | | | |
|---------|----------|----------|
| 1. | 8. | 15. |
| 2. | 9. | 16. |
| 3. | 10. | 17. |
| 4. | 11. | 18. |
| 5. | 12. | 19. |
| 6. | 13. | 20. |
| 7. | 14. | |

...../20

VALUTAZIONE DELLA PROVA

Punteggio totale/75

Voto

Osservazioni

.....
.....
.....
.....