

Nome..... Cognome..... Data.....

Rispondi:

In quale regione vivi?

In quale provincia?

Qual è il capoluogo della tua regione?

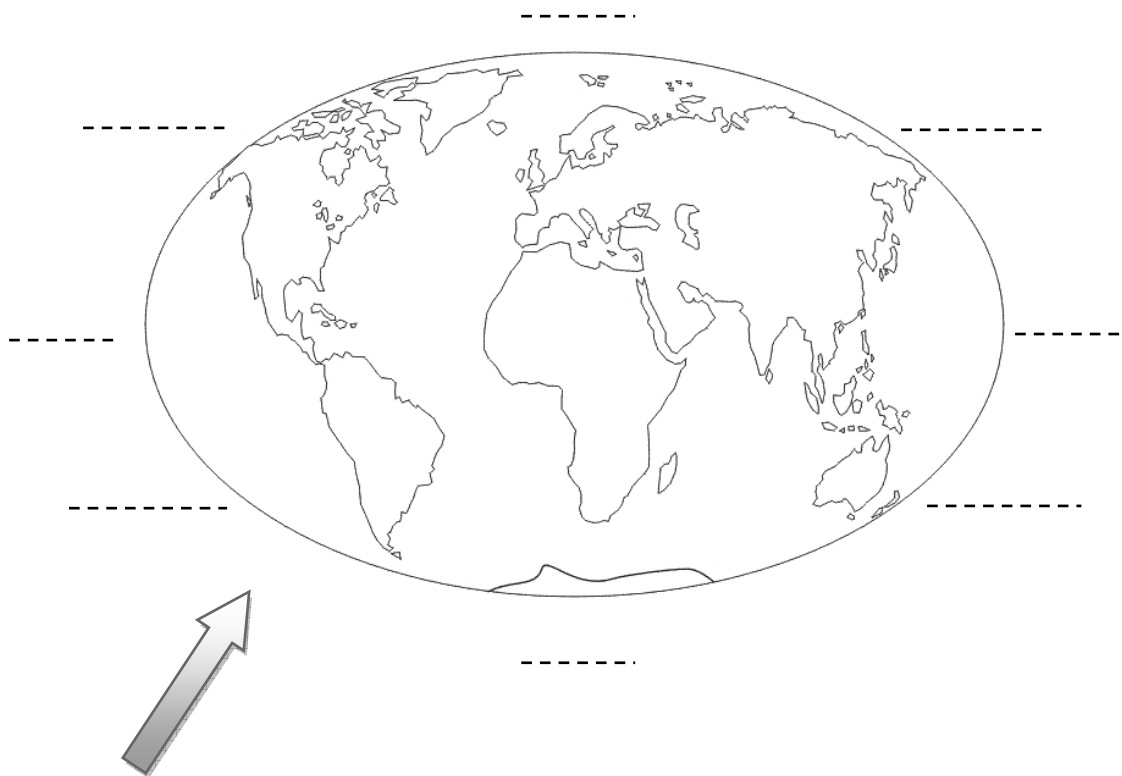
Qual è la capitale d'Italia?

Come si chiama il mare che bagna l'Italia?

...../5

Trascrivi attorno al planisfero i punti cardinali:

Nord, sud, est, ovest, nord-est, nord-ovest, sud-est, sud-ovest



Sul precedente planisfero traccia l'equatore e cerchia l'Italia.

...../10

Collega i termini della colonna di destra con quelli della colonna di sinistra

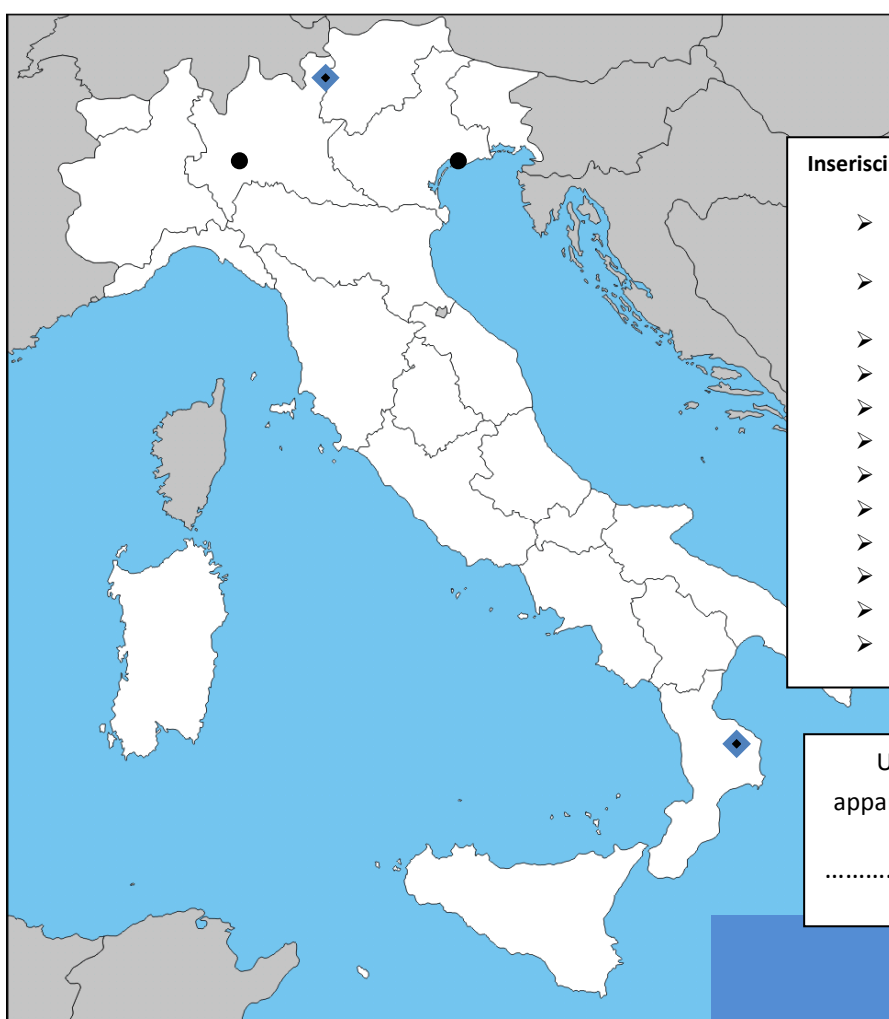
Meridione	Nord
Settentrione	Sud
Oriente	Est
Occidente	Ovest

...../4

Collega i termini della colonna di destra con quelli della colonna di sinistra

Isola	Italia
Penisola	Venezia
Arcipelago	Sardegna
Laguna	Eolie

...../4



Inserisci sulla cartina

- Una crocetta per localizzare la capitale d'Italia
- Un triangolino per localizzare la città in cui vivi.
- Il numero 1 sulla Toscana
- Il numero 2 sulla Calabria
- Il numero 3 sul Trentino
- Il numero 4 sull'Umbria
- Il numero 5 sulla Campania
- Il numero 6 sulla Sicilia
- Il numero 7 sulla Corsica
- Il numero 8 sul Veneto
- Il numero 9 sul Molise
- Il numero 10 sulla Basilicata

...../12

Uno dei territori che hai indicato appartiene alla Francia. Scrivine il nome:

.....

...../1

Stima la distanza in linea d'aria tra i due punti indicati nella cartina (sottolinea l'opzione corretta)

Meno di 100 km da 200 a 300 km Da 600 a 800km Più di 800 km

E ora tra i due rombi (sottolinea l'opzione corretta)

...../1

da 200 a 400 km Da 500 a 700km da 800 a 1300 km più di 2000 km

...../1

Vero o falso?

L'Italia è un continente	V	F
L'Africa è un continente	V	F
L'equatore attraversa L'Europa	V	F
L'Italia confina con la Slovenia	V	F
La Lombardia è una regione	V	F
L'Oceania è un mare	V	F
L'Asia è un continente	V	F
L'Italia si trova nell'emisfero australe	V	F
Genova si trova in Liguria	V	F
Torino si trova in Lombardia	V	F
Milano si trova nell'Italia meridionale	V	F
L'Arno attraversa Roma	V	F
Milano è una regione	V	F
La Calabria è una penisola	V	F
La Corsica è un'isola	V	F
Il Friuli si trova nell'Italia meridionale	V	F
La Puglia si trova nell'Italia settentrionale	V	F
L'Umbria è priva di sbocco al mare	V	F

...../18

Trascrivi i nomi nel rettangolo giusto:

Appennini, Adriatico, Stromboli, Ionio, Tevere, Alpi, Vesuvio, Oglio, Etna, Adige, Atlantico, Tirreno, Danubio, Pacifico, Dora Baltea, Amiata.

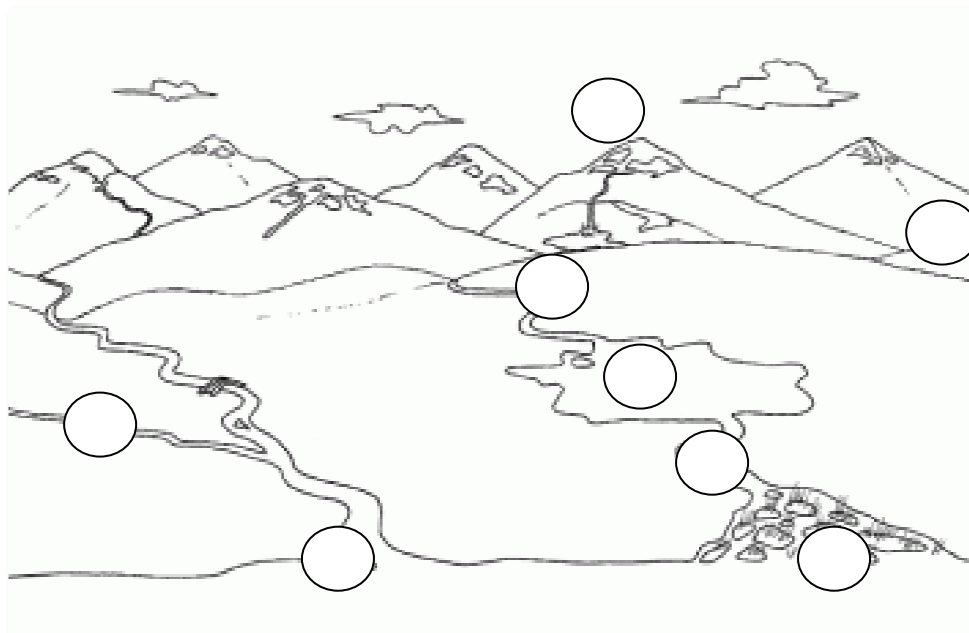
Vulcani:

Mari/Oceani:

Fiumi:

Monti/catene montuose

...../16



Inserisci i numeri nei cerchi giusti

1. Lago
2. Immissario
3. Emissario
4. Foce a delta
5. Affluente
6. Vetta
7. Valle
8. Foce a estuario

...../8

VALUTAZIONE DELLA PROVA

Punteggio totale/80

Voto

Osservazioni

.....
.....
.....
.....